

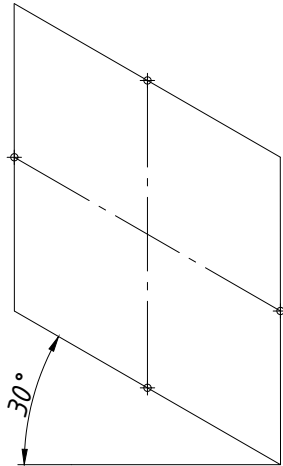
NASTAVNA CJELINA: TESTOVI ZA PROVJERU ZNANJA

NASTAVNA JEDINICA: 3. TEST: konstrukcije tehničkih krivulja

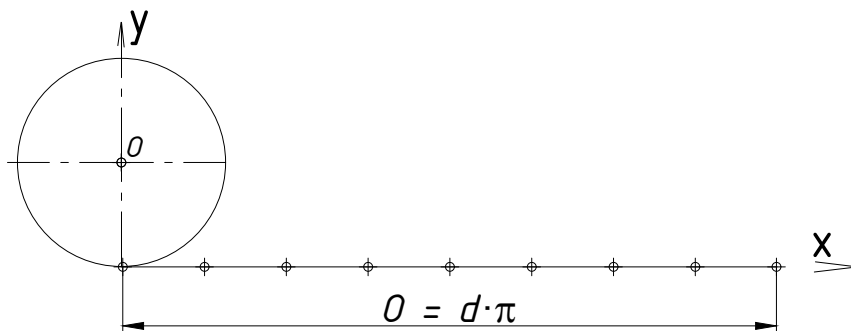
Riješite zadatke. Pored svakog zadatka upisan je mogući broj bodova, ukupno 100.

BODOVI

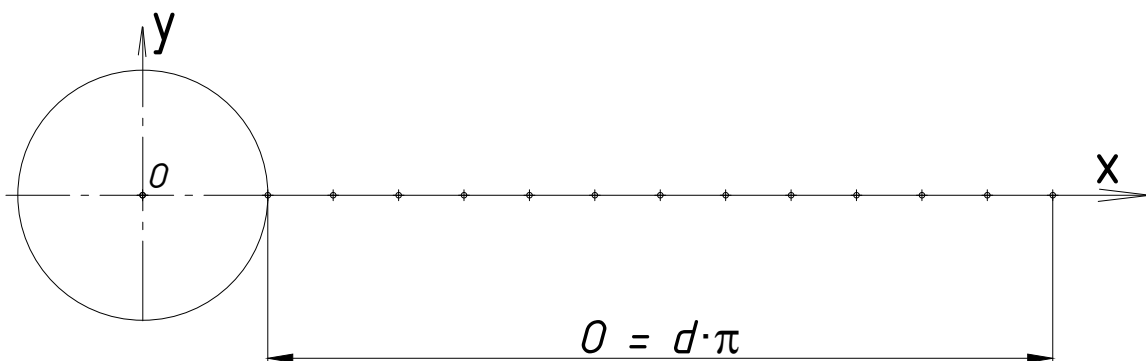
1. U zadanom rombu konstruirajte *elipsu* pomoću šestara. 30



2. Konstruirajte *evolventu* ako je zadana kružnica i njen opseg. 35



3. Konstruirajte *sinusoidu* ako je zadana kružnica i njen opseg. 35



Ime i prezime učenika:

Razred/skupina:

B

Datum:

Broj bodova:

Ocjena:

List broj: 08